

**PRUEBA ACCESO A CICLOS FORMATIVOS DE GRADO SUPERIOR**

Junio 2014  
OPCIÓN A: GEOGRAFÍA

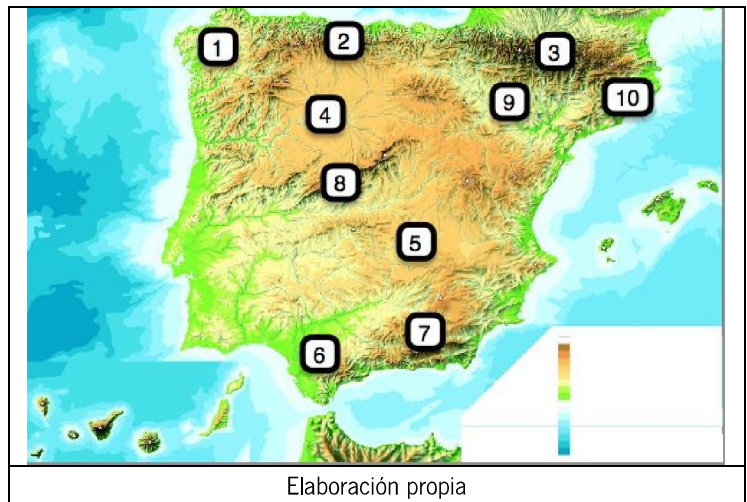
DATOS DEL ASPIRANTE		CALIFICACIÓN PRUEBA
Apellidos:		Nombre:
D.N.I. o Pasaporte:	Fecha de nacimiento:            /            /	

**Instrucciones:**

- **Lee atentamente las preguntas antes de contestar.**
- **La puntuación máxima de cada pregunta está indicada en cada enunciado.**
- **Revisa cuidadosamente la prueba antes de entregarla.**

**1.** Observa el mapa físico de España y responde a las siguientes cuestiones: (2 puntos)

**A.** Relaciona el número con el nombre de la unidad de relieve sobre la que se localiza. (1 punto)



**B.** Di cuáles de ellas son exteriores, interiores o periféricas a la Meseta. (1 punto)

Periféricas	Exteriores	Interiores

2. Lee la noticia y contesta a cuestiones que se plantean: (2 puntos)

**EL MUNDO** Edición España ▼ Versión Clásica

---

SECCIONES España Madrid Andalucía Balears Cataluña Comunidad Valenciana

---

**DEBATE SOBRE EL ESTADO DE LA NACIÓN** » Duran Lleida: "Si no quiere una España t

---

POBLACIÓN Cifras del Instituto Nacional de Estadística

## España pierde más de 100.000 habitantes por la emigración en la primera mitad de 2013

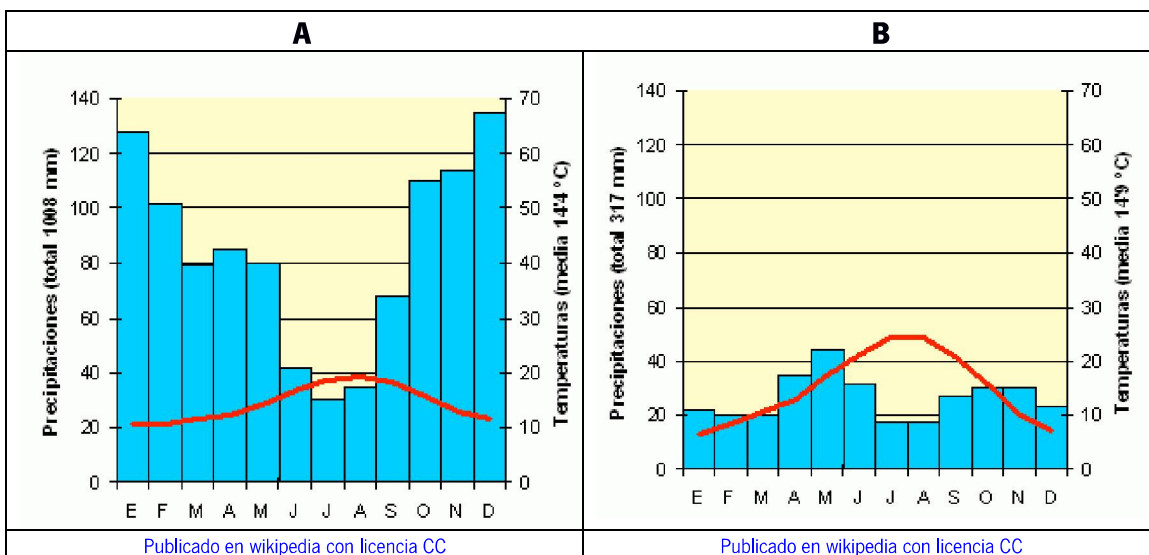
- El pasado semestre se marcharon 259.227 personas y llegaron 134.312
- La cifra de los que se van aumenta un 10% y el número de los que vienen baja un 11%
- El número de extranjeros ha bajado un 4%, según las cifras del INE

[Noticia publicada en El Mundo el 10 de diciembre de 2013](#)

A. A partir de los datos que proporciona la noticia indica si el saldo migratorio de España es positivo o negativo. Justifica la respuesta. (1 punto)

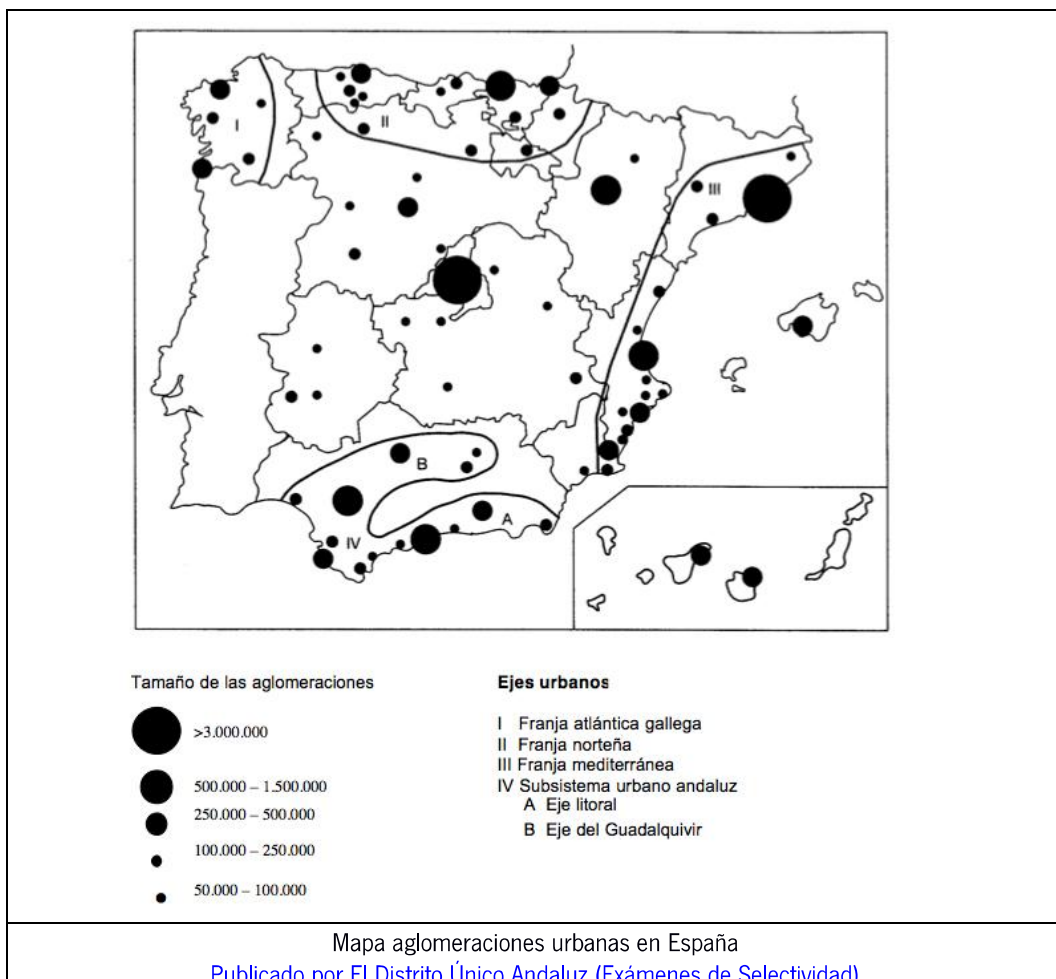
B. ¿Qué consecuencias sociales y económicas puede tener la tendencia demográfica que indica la noticia? (1 punto)

3. Observa los climogramas y contesta a las siguientes cuestiones: (2,5 puntos)



- A.** ¿A qué tipo de clima representa el climograma A? Justifica tu respuesta (0,75 puntos)
- B.** ¿En qué zona de España se localiza el tipo de clima correspondiente al climograma A? (0,5 puntos)
- C.** ¿A qué tipo de clima representa el climograma B? Justifica tu respuesta (0,75 puntos)
- D.** ¿En qué zona de España se localiza el tipo de clima correspondiente al climograma B? (0,5 puntos)

**4.** Observa el mapa sobre aglomeraciones urbanas en España y contesta a las siguientes cuestiones que se plantean: (2,25 puntos)



**A.** Escribe el nombre de las ciudades que tienen más de 500.000 habitantes y señala a qué comunidad autónoma pertenecen (1 punto)

**B.** Expón brevemente tres causas que expliquen la desigualdad en la distribución espacial de las aglomeraciones urbanas. (1,25 puntos)

**5.** Lee el siguiente texto “La terciarización de la economía” y completa los espacios vacíos con los conceptos que se te ofrecen a continuación. (1, 25 puntos)

<b>Conceptos</b>	sector terciario – terciarización – turismo – sector primario – sector secundario
------------------	---

<b>“La terciarización de la economía”</b>
<p>España ha protagonizado importantes cambios durante las últimas cuatro décadas en relación al peso que los distintos sectores económicos tienen en la actividad económica y también el porcentaje de población dedicada a cada una de ellas.</p> <p>Así el ..... y el ..... han pasado a segundo y tercer plano, aumentando considerablemente el....., fundamentalmente debido al desarrollo del ..... y de las administraciones autonómicas que han dado lugar a la creación de muchos puestos de trabajo.</p> <p>Es lo que se llama .....de la economía, fenómeno propio de las sociedades desarrolladas.</p>